










1. Nenne 3 Möglichkeiten zur Vermeidung von Unfällen am Arbeitsplatz!
2. Welche 5 Arten von Schildern gibt es?
3. Nenne 3 Punkte die du bei der Ordnung auf deinem Arbeitsplatz beachten solltest!
4. Welche 3 Maße kann ich mit dem Messschieber bestimmen?
5. Nenne 3 weitere Messgeräte!

6. Benenne folgende Schilder!

7. Beschrifte den Messschieber richtig!



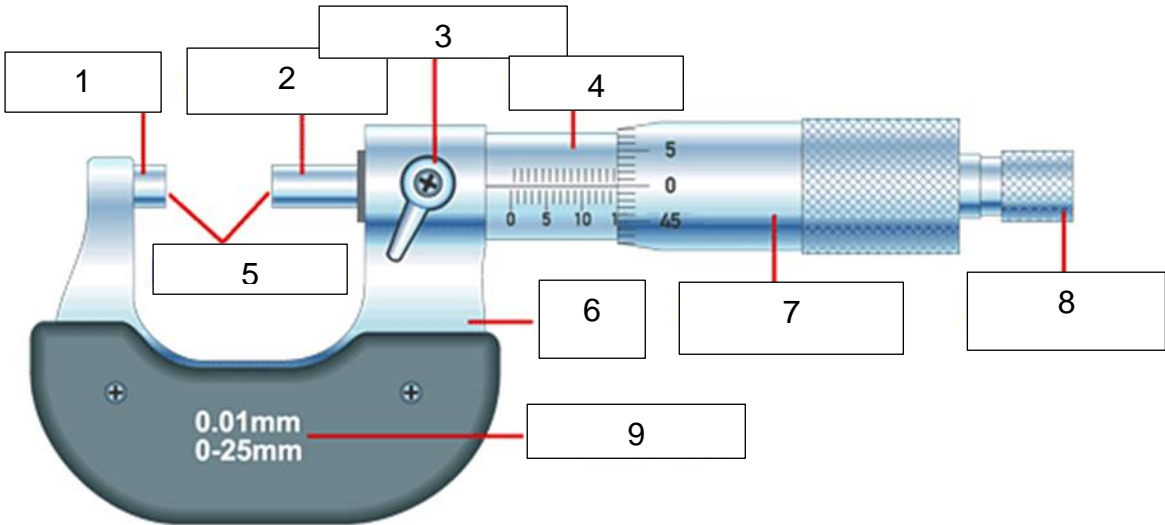
Nonius, beweglicher Schenkel, Lineal, Messschneiden, Messspitzen,
 Millimeterteilung, Schieber, fester Schenkel

8. Beschrifte richtig!

Gleichspannung ⚡ Gleichstrom ⚡ Wechselspannung ⚡ Wechselstrom ⚡ Dioden-,
 Durchgangsprüfung ⚡ Ohmmeter ⚡ Anschluss Voltmeter und Ohmmeter (+) ⚡
 Anschluss Amperemeter (+) ⚡ Masseanschluss (-) ⚡ Messbereich



9. Beschrifte die Messschraube richtig



- 1. _____
- 2. _____
- 3. _____
- 4. _____
- 5. _____

- 6. _____
- 7. _____
- 8. _____
- 9. _____